


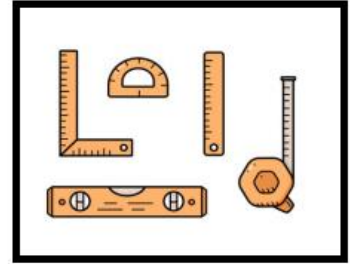
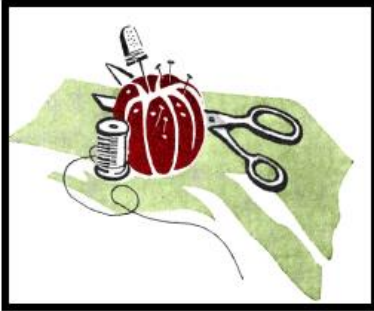


الاختبار النهائي			
الفصل الثالث/ السنة الأولى			
<ul style="list-style-type: none"> <li>• يظهر معرفة ومهارة في استخدام الأدوات والمعدات الأساسية اللازمة لتصنيع المنتجات الخشبية وأدوات نشر الخشب بمختلف أنواعها.</li> <li>• يظهر معرفة بأنواع القياسات والأشكال الهندسية المختلفة المستخدمة في النجارة.</li> <li>• يستخدم أدوات القطع والقص بطرق صحيحة وأمنة.</li> <li>• يُشكل القطع الخشبية باستخدام الغراء، والمسامير والبراغي والذسر.</li> <li>• يرش ويدهن المشغولات الخشبية بالأصباغ والدهانات بعد الانتهاء من تصنيعها بالطرق الصحيحة والأمنة.</li> <li>• يلتزم بشروط وإجراءات الأمن والسلامة في مكان العمل.</li> <li>• يلتزم بالوقت في تنفيذ العمل المطلوب.</li> </ul>	مخرج التعلم	يظهر معرفة ومهارة في تصنيع المنتجات الخشبية	اسم الوحدة
اسم المدرب	اسم السنة الدراسية / الفصل الدراسي	2024	الفصل الثالث
اسم الطالب/ة	اسم المجموعة		

أسئلة الاختبار	
السؤال الأول	صل بين الأدوات والمواد المستخدمة بالباب الخشبي .
السؤال الثاني	ضع دائرة ( O ) حول الاشكال التي تتطابق مع الاشكال الهندسية .
السؤال الثالث	ضع دائرة ( O ) على الأداة المستخدمة في ثقب الخشب.
السؤال الرابع	ضع علامة صح (✓) على الأدوات اللازمة لقص الخشب.

صل بين الأدوات والمواد المستخدمة بالباب الخشبي .

السؤال الأول





ضع دائرة (O) حول الاشكال التي تتطابق مع الاشكال الهندسية .

السؤال الثاني



ضع دائرة (O) على الأداة المستخدمة في ثقب الخشب.

السؤال الثاني



ضع علامة صح (✓) على الأدوات اللازمة لقص الخشب.

السؤال الرابع

